

TOÁN

Em hãy khoanh tròn vào chữ đặt trước câu trả lời đúng trong các câu sau:

Câu 1: Số nằm trong bảng nhân 4 là:

- A. 10 B. 14 C. 28 D. 42

Câu 2: Kết quả của phép nhân $3 \times 6 + 9$ là :

- A. 17 B. 18 C. 27 D. 28

Câu 3: Cho dãy số: 3 ; 6 ; 9 ; ... ; 15,18. Số thích hợp điền vào chỗ chấm là:

- A. 10 B. 11 C. 12 D. 14

Câu 4: Số thích hợp điền vào ô trống là:

$$4 \times 3 = 2 \times \square$$

- A. 3 B. 4 C. 5 D. 6

Câu 5: Tính độ dài đường gấp khúc ABCD, biết đoạn thẳng AB dài 15cm, đoạn thẳng BC dài 20cm, đoạn thẳng CD dài 9cm.

- A. 24cm B. 34cm C. 44cm D. 54cm

Câu 6: Mỗi lọ hoa có 9 bông hoa. Hỏi 5 lọ hoa có bao nhiêu bông hoa?

- A. 14 B. 25 C. 40 D. 45

Câu 7: Tính

$$3 \times 4 + 19 = \dots\dots\dots \qquad 5 \times 6 + 11 = \dots\dots\dots$$
$$= \dots\dots\dots \qquad = \dots\dots\dots$$

$$2 \times 7 + 34 = \dots\dots\dots \qquad 4 \times 8 - 15 = \dots\dots\dots$$
$$= \dots\dots\dots \qquad = \dots\dots\dots$$

Câu 8: Điền dấu x, +, - vào chỗ chấm:

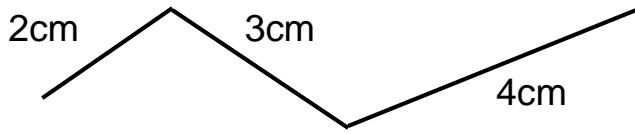
$$3 \dots 3 \dots 4 = 5 \qquad 7 \dots 2 \dots 9 = 18$$
$$9 \dots 3 \dots 8 = 14 \qquad 6 \dots 6 \dots 15 = 15$$

Câu 9: Viết tích thành tổng rồi tính:

$$5 \times 3 = \dots\dots\dots 4 \times 6 = \dots\dots\dots$$

$$3 \times 4 = \dots\dots\dots 2 \times 7 = \dots\dots\dots$$

Câu 10: Đặt tên rồi tính độ dài mỗi đường gấp khúc sau :

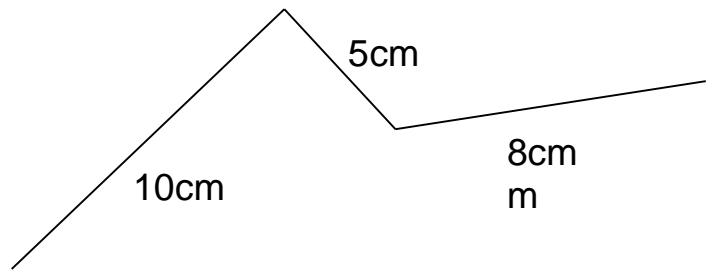


Bài giải

.....
.....
.....

Câu 11: Một sợi dây đồng được uốn thành hình sau. Tính độ dài đoạn dây đồng đó?

Bài giải:



.....
.....
.....

Nhà văn vội chạy vào bếp thì thấy lửa cháy ngùn ngụt vì anh hầu để một bó củi to cạnh bếp và bó củi bốc cháy □ Còn trên bếp lò đang đun một nồi nước lớn □ Ông bèn ra lệnh:

- Hắt ngay nước trong nồi vào bếp □ Người hầu lập tức kêu lên:
- Ôi, không được, không được đâu □ Đó là nước nóng đấy □

Sưu tầm.

III. TẬP LÀM VĂN Viết một đoạn văn ngắn (4 – 5 câu) nói về mùa mà em yêu thích nhất.

Bài làm

Bài làm

Câu 1: Nghe- viết đoạn chính tả bài: “Sân chim” của tác giả Đoàn Giỏi, trang 29 - SGK Tiếng Việt 2 (tập Hai).

Câu 2: Điền tr hoặc ch vào chỗ trống.

.....im hót rung rinh cành khế
Hoa rơi tím cả cầu ao
Mấyú rô ron ngơ ngác
Tườngời đang nổi mưa sao.

Trần Đăng Khoa

II. LUYỆN TỪ VÀ CÂU

Câu 1: Nối cột A và cột B cho đúng để tạo thành những hình ảnh so sánh:

A	B
a) Kêu	1) như cú
b) Dững mãnh	2) như cắt
c) Mắt (tinh)	3) như cuốc
d) Nói	4) như khướu
e) Nhanh	5) như đại bàng

Câu 2: Em hãy đặt câu hỏi có cụm từ Ở đâu? cho mỗi câu sau: Chú mèo đang đi bên dòng mương nhỏ.

.....
.....

Đàn trâu thung thặng gặm cỏ trên cánh đồng.

.....
.....

TOÁN

Em hãy khoanh tròn vào chữ đặt trước câu trả lời đúng trong các câu sau:

Câu 1: Kết quả của phép tính $4 \times 7 + 28$:

B. 28 B. 36 C. 56 D. 58

Câu 2: Tích của hai thừa số 3 và 9 là :

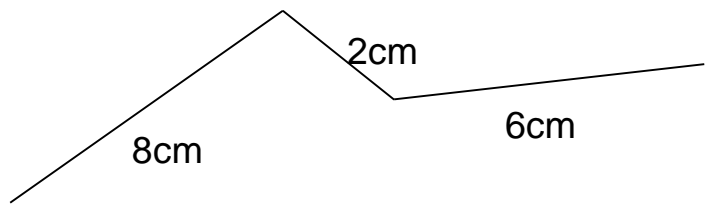
B. 27 B. 28 C. 29 D. 30

Câu 3: Cho dãy số: 5; 10; 15; ... ; 25; 30. Số thích hợp điền vào chỗ chấm là:

B. 16 B. 20 C. 22 D. 24

Câu 4: Độ dài đường gấp khúc hình bên là:

- B. 8cm B. 10cm
C. 12cm D. 16 cm



Câu 5: Một vườn xoài có 5 hàng cây, mỗi hàng có 7 cây xoài. Hỏi khu vườn đó có tất cả bao nhiêu cây xoài?

- B. 12 B. 30 C. 35 D. 45

Câu 6: Số thích hợp để điền vào chỗ chấm của phép tính sau là:

$$5\text{dm} \times 8 + 4\text{dm} = \dots\dots\text{dm}$$

- A. 44 B. 44dm C. 44cm D. 54dm

Câu 7: Tính

$$4 \times 8 - 14 = \dots\dots\dots$$

$$= \dots\dots\dots$$

$$3 \times 7 + 18 = \dots\dots\dots$$

$$= \dots\dots\dots$$

$$2 \times 7 + 36 = \dots\dots\dots$$

$$= \dots\dots\dots$$

$$5 \times 5 - 9 = \dots\dots\dots$$

$$= \dots\dots\dots$$

Câu 8: Điền dấu (<, >, =) thích hợp vào ô trống:

$4 \times 6 - 12$	<input type="checkbox"/>	$2 \times 5 + 13$	$3 \times 4 + 9$	<input type="checkbox"/>	$2 \times 6 + 9$
$3 \times 5 + 55$	<input type="checkbox"/>	$5 \times 10 + 14$	$5 \times 6 - 14$	<input type="checkbox"/>	$4 \times 6 - 14$

Câu 9: Cho đường gấp khúc ABCD như hình bên. Viết số và chữ thích hợp vào chỗ trống:

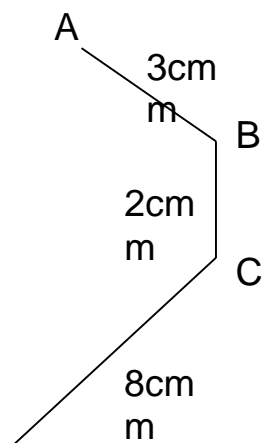
a) Đường gấp khúc ABCD gồm đoạn thẳng.

Đó là các đoạn thẳng:
.....

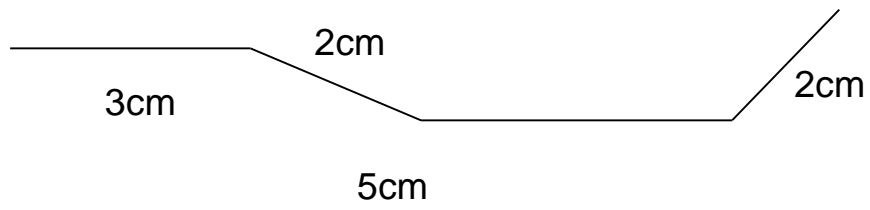
a) Độ dài đường gấp khúc AC là

b) Độ dài đường gấp khúc AD là.....

c) Độ dài đường gấp khúc AD dài hơn độ dài đường gấp khúc AC là



Câu 10: Đặt tên rồi tính độ dài mỗi đường gấp khúc sau:



Bài giải

.....
.....

.....

Câu 11: Trong một phép nhân có thừa số thứ nhất bằng 4, thừa số thứ hai là số liền trước số lớn nhất có một chữ số. Tích của phép nhân đó bằng bao nhiêu?

.....
.....
.....
.....